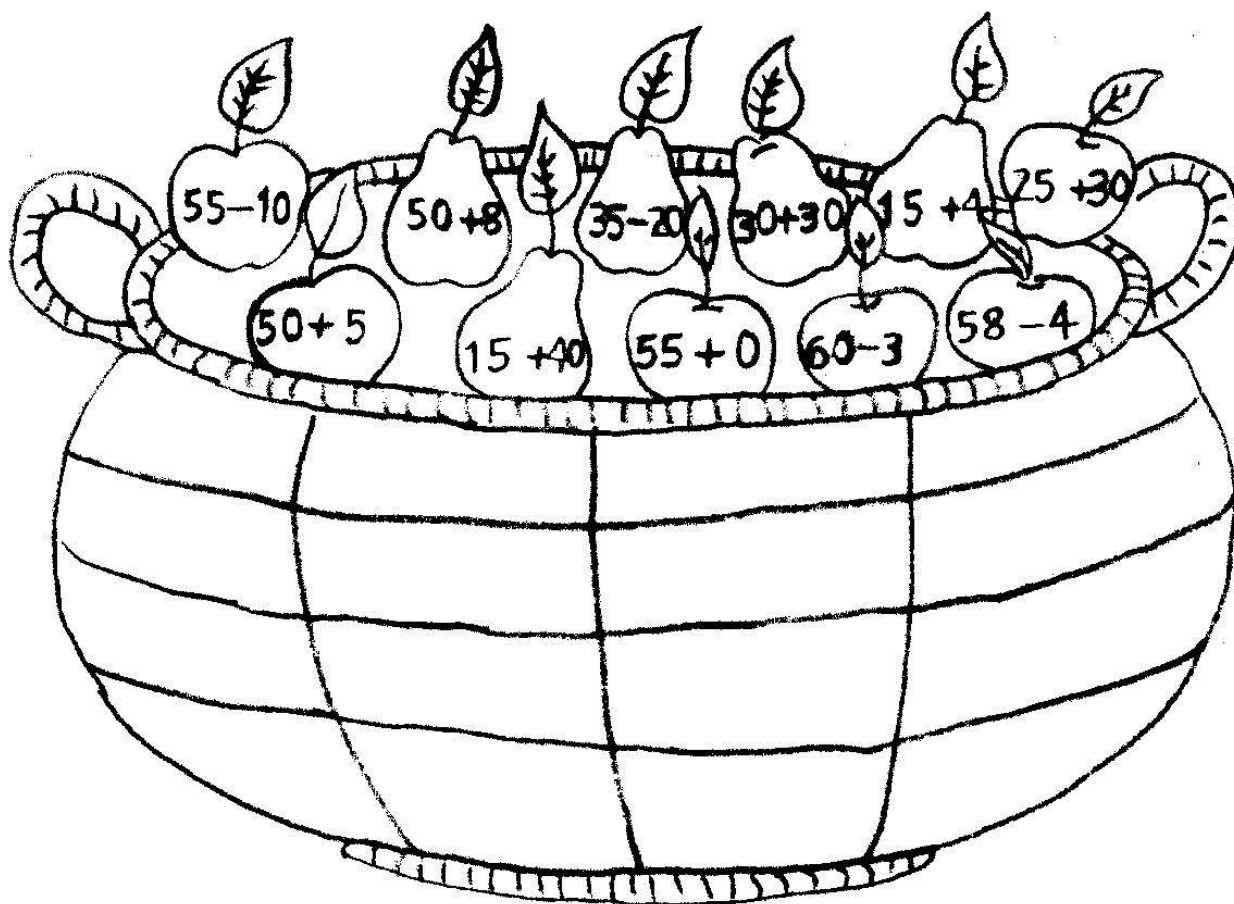


Matemática – 2º ano

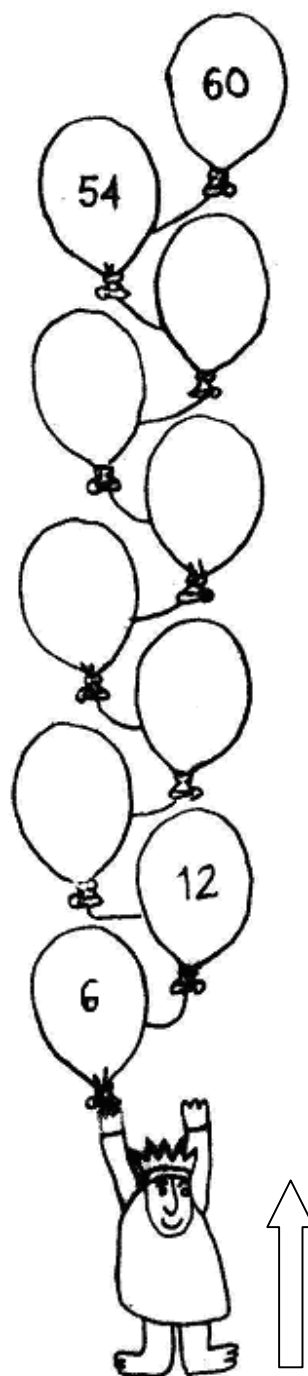

Data: _____

Nome: _____


1. Calcule as somas e as diferenças. Pinte os frutos indicados na cesta de acordo com os sinais (menores do que 55 – verde; iguais a 55 – vermelho; maiores do que 55 – amarelo).




2. Estes amigos compraram balões que seguram nas mãos. Completa os números que faltam sabendo que deves seguir uma ordem crescente (\uparrow) ou decrescente (\downarrow).



3. Os nossos amigos foram passear os cães. Muito marotos, soltaram-se e fugiram. Resolve os cálculos em cadeia e ficarás a saber como deves ligar as trelas para que os fugitivos encontrem o dono.



50	+	10	=	
60	-	9	=	
	+	4	=	
	-	12	=	



12	+	13	=	
	+	25	=	
	+	9	=	
	+	1	=	



4. Resolve como no exemplo:

	Dezenas	Unidades	Decomposição	Extenso
55	5	5	50+5	Cinquenta e cinco unidades
23				
60				

Bom trabalho!